


Logico matematice

Arată cifra 1. Trasează în chenar o linie
Arată cifra 2. Trasează în chenar două linii.
Arată cifra 3. Trasează în chenar trei linii


1



2



3




Sfat : oferiți copilului model; Se poate pune un punct sau lipi un sticker; Pentru cei ce nu pot ține creionul se pune acoarela pe un deget și se bifează în chenar

Logico matematice

Arată cifra 1. Pune în chenar un punct
Arată cifra 2. Pune în chenar două puncte
Arată cifra 3. Pune în chenar trei puncte



1



2



3




Sfat : oferiți copilului model; Se poate trasa o linie sau lipi un sticker; Pentru cei ce nu pot ține creionul se pune acoarela pe un deget și se bifează în chenar


Logico matematice

Arată cifra 1. Desenează un cerculeț
Arată cifra 2. Desenează două cerculețe
Arată cifra 3. Desenează trei cerculețe


1



2





3



Sfat : oferiți copilului model; Pentru cei ce nu pot ține creionul se pune acoarela pe un deget și se bifează în chenar

Logico matematice

Numara ! Unește cu cifra corespunzătoare



Sfat : oferiți copilului model; Pentru cei ce nu pot ține creionul - părintele poate dirija degetul copilului de la mulțime la cifră



A.B.C.D.-Asociația în Beneficiul Copiilor
cu Dizabilități

www.asociatiaabcd.ro






Logico matematice

Numara ! Unește cu cifra corespunzătoare






Logico matematice

Numara ! Unește cu cifra corespunzătoare



Logico matematice

Numara ! Unește cu cifra corespunzătoare




Logico matematice

1

Numără câte obiecte sunt . Scrie cifra 1

unu



Sfat : copiii ce nu pot utiliza creionul pot sa aleaga (din 2,3 caronase) si să lipească cartonașul corespunzător.

A.B.C.D.-Asociația in Beneficiul Copiilor
cu Dizabilități

www.asociațiaabcd.ro





Logico matematice

Încercuiește grupul cu un obiect.

1

unu



Sfat : copiii ce nu pot utiliza creionul pot arăta grupa cu 1 element sau pot lipi un cartonaș colorat pe aceasta.



Logico matematice


Scrive cifra 1. Numără câte obiecte sunt în fiecare grupa și scrie răspunsul în chenar

unu





Sfat : copilul nu scrie-adultul poate conduce degetul copilului pe forma cifrei ; in chenar se poate lipi cartonașul pe care este scrisă cifra.





2




doi



Sfat : copiii ce nu pot utiliza creionul pot sa aleaga (din 2,3 caronase) si să lipească cartonașul corespunzător.

2

doi





Sfat : copiii ce nu pot utiliza creionul pot arăta grupa cu 1 element sau pot lipi un cartonaș colorat pe aceasta.

Logico matematice

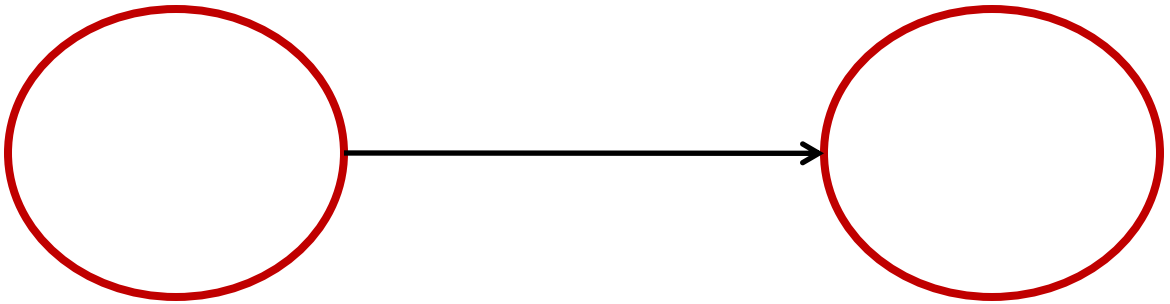

Scrive cifra 2. Numără câte obiecte sunt în
fiecare grupa și scrie răspunsul în chenar

doi






Logico matematice

Numără câți pinguini sunt. Scrie 1. Număra
câte mere sunt. Scrie 2



3

trei

A large, empty rounded rectangular box with a blue border, intended for the child to write the number 3.




Sfat : copiii ce nu pot utiliza creionul pot sa aleaga (din 2,3 caronase) si să lipească cartonașul corespunzător.

Logico matematice

Încercuiește grupul cu trei obiecte.

3

trei






Sfat : copiii ce nu pot utiliza creionul pot arăta grupa cu 1 element sau pot lipi un cartonaș colorat pe aceasta.



Logico matematice



Scrive cifra 3. Numără câte obiecte sunt în
fiecare grupa și scrie răspunsul în chenar

trei



Logico matematice

Numără câți pinguini sunt. Scrie 1. Numără
câte mere sunt. Scrie 2. Numără câți pești
sunt. Scrie cifra 3.









A sequence of three large red circles connected by black arrows, intended for writing the answers to the counting questions.



Logico matematice

Numără și completează .





1

2



Logico matematice

Numără și completează .



Logico matematice

Numără și completează .






1

3







Logico matematice

Completează .



Logico matematice

Completează .



2

1

3

2

1

1

1

2

3

2

3

1


1

3


2

Logico matematice

Numără și încercuiește cifra
corespunzătoare



1 2 3




1 2 3




Logico matematice

Numără și încercuiește cifra
corespunzătoare



1 2 3




1 2 3




Logico matematice

Numără și încercuiește cifra
corespunzătoare



1 2 3



1 2 3

Logico matematice

Arată cifra 1. Scrie cifra 1.
Arată cifra 2. Scrie cifra 2.
Arată cifra 3. Scrie cifra 3.



Logico matematice

Arată cifra 1. Scrie cifra 1.
Arată cifra 2. Scrie cifra 2.
Arată cifra 3. Scrie cifra 3.

3

3

3

3

3

2

2

2

2

2

1

1

1

1

1



Logico matematice

Arată cifra 1. Scrie cifra 1.
Arată cifra 2. Scrie cifra 2.
Arată cifra 3. Scrie cifra 3.

3

3

3

3

3

1

1

1

1

1

2

2

2

2

2

